

1.

Döntsd el, hogy igaz vagy hamis az állítás!!

Lili és Levi egyidősen tanultak meg biciklizni.

Felnőtt nélkül mentek el tekerni a faluba.

Ügyesen figyeltek a szabályokra.

Majdnem baleset érte Levit.

2.

Hány évesen tanultak meg a gyerekek biciklizni?
Színezd ki a megfelelő tortát!



3.

Mit tanultak meg a nyáron?



4.

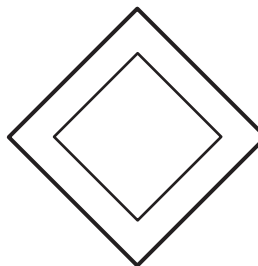
Készítsd el a táblákat az utasítás szerint!

Ez a tábla kék színű, a rajta lévő figura fehér.



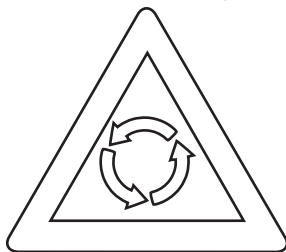
Gyalogút

Színezd a négyzet közepét sárgára!




Főút

A háromszög peremét színezd pirosra,
binnen a körforgalmat jelölő nyilakat feketére!



Körforgalom

A kör széle legyen piros, benne a szám
fekete!



Sebességkorlátozás

5.


Készítsd el a táblákat az utasítás szerint!

Színezz a bicikli kivételével mindent kékre!



Kerékpárút

A kör széle legyen piros, benne a kerékpár fekete!



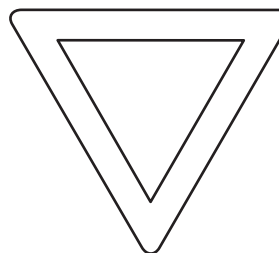
**Kerékpárral
behajtani
tilos**

Színezd a felirat kivételével az egész táblát pirosra!



**Állj!
Elsőbbség-
adás kötelező**

Színezd a háromszög peremét pirosra!



**Elsőbbség-
adás kötelező**

6.

Milyen felszerelést kötelező használni biciklizés közben?
Karikázd be!



7. Milyen megfigyelő vagy? A tanult közlekedési táblákat most hátulról látod csak színek nélkül. Vajon össze tudod párosítani a formákat a táblákkal?



Főútvonal

Állj! Elsőbbségadás kötelező!

Elsőbbségadás kötelező!

Körforgalom előjelzés

Kerékpárút, sebességkorlátozás,
gyalogút vagy kerékpárút

8.

Biciklizés

Vágd szét és keverd össze a mondatokat!
Rakd sorba a mese történései sorrendjében!

Hatodik születésnapja utáni nyáron Levi és Lili is megtanult biciklizni.

Először begyakorolták a biztonságos megállást és elindulást.

Ezután elmentek a szüleikkel biciklizni a faluba.

Nagyon élvezték, hogy suhannak az utakon.

Közben egyáltalán nem figyeltek a szüleikre.

8.

Pedig ők útközben magyarázták a táblákat és a szabályokat.

Így az egyik kanyarnál Levi nem állt meg.

Egy autó majdnem elütötte.

Mindenki nagyon megijedt.

Most már Levit és Lilit is érdekelte a táblák jelentése.

9.

Keresd ki a szövegből hány felnőtt és hány gyerek ment el biciklizni. Rajzolj annyi kék kört ahány felnőtt és annyi piros kört ahány gyerek volt. Összesen hányan voltak? Számold ki!

Válasz: _____

10.

Oldd meg a Soduku feladványt!

